

香港正覺蓮社佛教梁植偉中學
設計與科技

小測編號： 1038

小測課題：圖形的縮細與放大

班別：_____（ ）

測驗日期：_____

姓名：_____

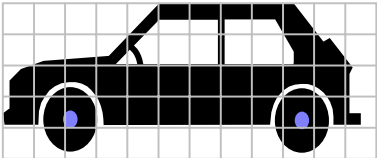

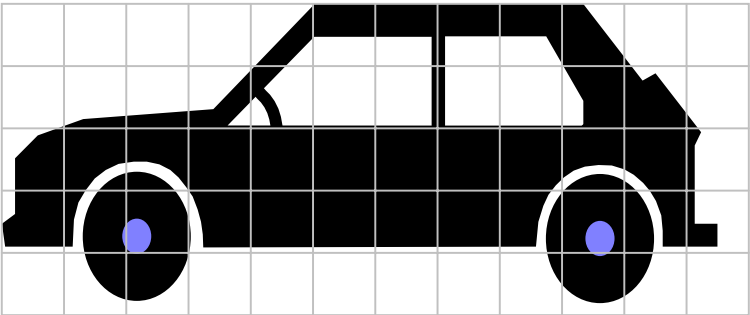
積分： 3 / 3

建議答案

每個答案 1 分。

試按照指定的比例，放大及縮細下列圖形。

注意：必須先用間尺繪畫「淺色的作圖方格」。

原圖形	
50%	
200%	

---全卷完---