

香海正覺蓮社佛教梁植偉中學

「設計與科技」科

小測編號：1060-99 P.1

小測課題：畫線、量度及測試工具


班別： ()

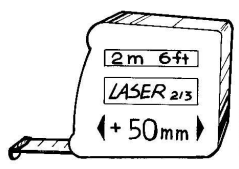
測驗日期：

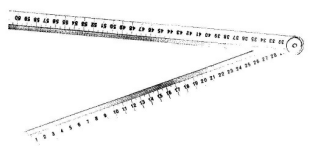
姓名：

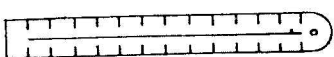
積分：


(甲) 請寫出下列工具的正确名稱及用途。


| | |
|----|---|
| 1 |  |
| 式樣 | |
| 名稱 | |
| 用途 | 1. 繪畫及測試 <u> </u> 。 2. 量度並測試工件的內直角及外直角位。 |

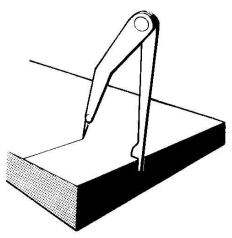
| | |
|----|---|
| 2 |  |
| 式樣 | |
| 名稱 | |
| 用途 | 1. 量度較長的長度。 2. 量度彎曲的表面及圓柱體物件。 |

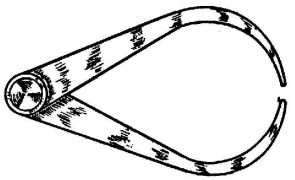
| | |
|----|---|
| 3 |  |
| 式樣 | |
| 名稱 | |
| 用途 | 1. 量度較長的長度。 |

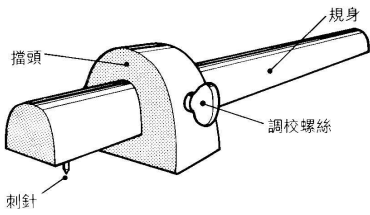
| | |
|----|---|
| 4 |  |
| 式樣 | |
| 名稱 | |
| 用途 | 1. 量度並測試 <u> </u> 。 2. 輔助畫線。 |


| | |
|----|---|
| 5 |  |
| 式樣 | |
| 名稱 | |
| 用途 | 1. 量度圓孔或圓通的內直徑。 |

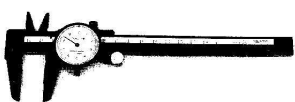
| | |
|----|---|
| 6 |  |
| 式樣 | |
| 名稱 | |
| 用途 | 1. 刻數字及字母於金屬表面。 |


| | |
|----|---|
| 7 |  |
| 式樣 | |
| 名稱 | |
| 用途 | 1. 在金屬物件上繪畫 <u> </u> 。 |


| | |
|----|---|
| 8 |  |
| 式樣 | |
| 名稱 | |
| 用途 | 1. 量度圓柱體物件的外直徑。 |


| | |
|----|---|
| 9 |  |
| 式樣 | |
| 名稱 | |
| 用途 | 1. 上繪畫順木紋的平行線。 |

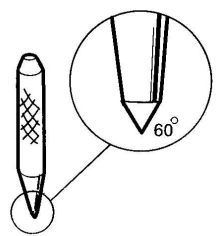
| | |
|----|--|
| 10 |  |
| 式樣 | |
| 名稱 | |
| 用途 | 1. 繪畫 _____ 及弧線。 2. 轉移長度。 |

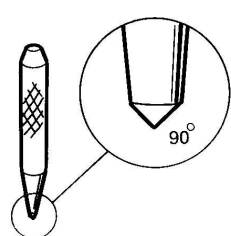
| | |
|----|---|
| 11 |  |
| 式樣 | |
| 名稱 | |
| 用途 | 1. 量度較精細物件的外直徑及內直徑。 |

| | |
|----|---|
| 12 |  |
| 式樣 | |
| 名稱 | |
| 用途 | 1. 用於木工製作的繪畫工作。 |

| | |
|----|---|
| 13 |  |
| 式樣 | |
| 名稱 | |
| 用途 | 1. 在 _____ 或膠質平面上畫線。 |

| | |
|----|---|
| 14 |  |
| 式樣 | |
| 名稱 | |
| 用途 | 1. 在一些準備鋸切的木料上刻畫直線。 |

| | |
|----|---|
| 15 |  |
| 式樣 | |
| 名稱 | |
| 用途 | 1. 在金屬材料上作打點及定線等工作。 |

| | |
|----|---|
| 16 |  |
| 式樣 | |
| 名稱 | |
| 用途 | 1. 用作刻記號於金屬材料的表面，方便 _____。 |