

# 香海正覺蓮社佛教梁植偉中學

## 設計與科技

小測編號： 2079 P.1

小測課題： 切削工具

班別：                   ( )

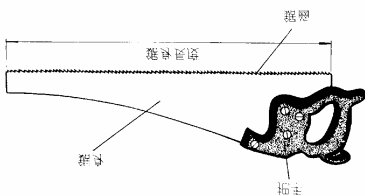
測驗日期：                   


姓名：                   

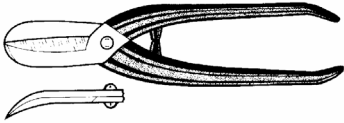
積分：           /16

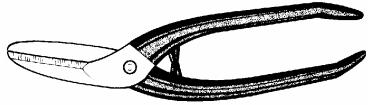
每個答案 1 分。

(甲) 請寫出下列工具的正确名稱。

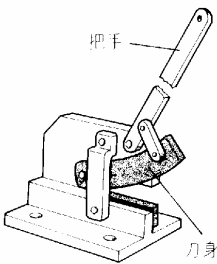
1	
式樣	
名稱	
用途	1. 進行實木(順木紋)的鋸切工作。

2	
式樣	
名稱	
用途	1. 對金屬薄片進行剪裁直線及凸曲。

3	
式樣	
名稱	
用途	1. 對金屬薄片進行剪裁凹曲。

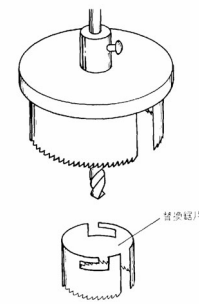
4	
式樣	
名稱	
用途	1. 對金屬薄片進行剪裁直線、凸曲 及凹曲。

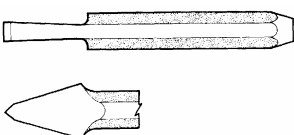
5		名稱
式樣		用途
		1. 在各種材料上鑽孔，尾部俱為方柄設計，藉以配合弓形手鑽工作。

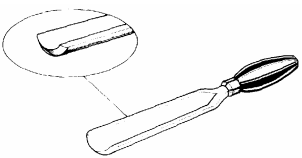
6		名稱
式樣		用途
		1. 可剪裁厚至 4mm 的金屬片或金屬桿。 2. 應用複式槓桿的原理，產生強大的截切力來剪裁物料。

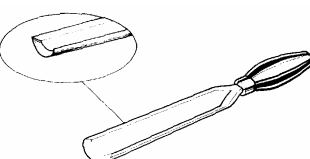
小測編號：2079 P.2  
 班別：\_\_\_\_\_ ( )

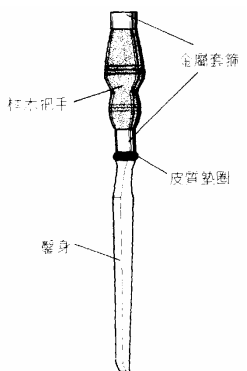
小測課題：切削工具  
 姓名：\_\_\_\_\_

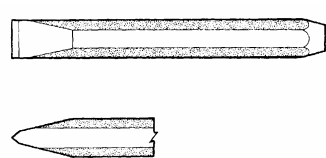
7  式樣		名稱	
		用途	1. 在木料上鑽削較大直徑 (12mm-100mm) 的圓孔。 2. 配上不同直徑的環狀鋸片，以配合鑽削不同大小圓孔工作。 3. 可配合鑽床使用。

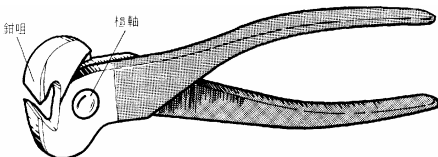
8  式樣		名稱	
		用途	1. 在工件上鑿切一些凹槽、坑位或彎線等。

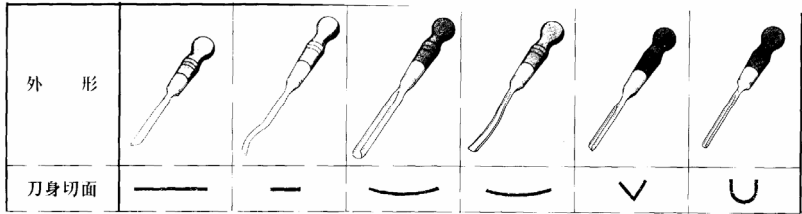
9  式樣		名稱	
		用途	1. 作內位雕刻工作。 2. 鑿削一些凸位曲線。

10  式樣		名稱	
		用途	1. 作外位雕刻工作。 2. 鑿削一些凹陷曲線。

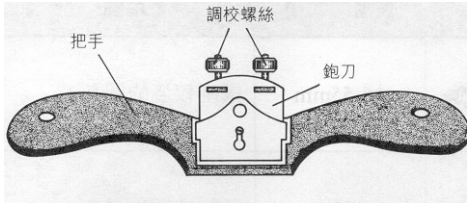
11  式樣		名稱	
		用途	1. 應付較重型的木工鑿削工作。 2. 鑿身設計較粗。

12  式樣		名稱	
		用途	1. 用於一般截裁工作。

13 式樣		名稱	
		用途	<ol style="list-style-type: none"> <li>1. 剪斷鐵線或鐵釘等物件。</li> <li>2. 剪斷一些凸出在木面上的釘頭或釘尾。</li> </ol>

14 式樣						
	名稱					
	用途	<ol style="list-style-type: none"> <li>1. 在木料上處理一些較精細的雕刻工作，可徒手使用或輔以木槌。</li> </ol>				

15 式樣		名稱	
		用途	<ol style="list-style-type: none"> <li>1. 割斷一些厚度較薄的金屬喉管。</li> </ol>

16 式樣		名稱	
		用途	<ol style="list-style-type: none"> <li>1. 分平底及圓底兩種。</li> <li>2. 鉋削木料的凸、凹曲線位。</li> </ol>