

香海正覺蓮社佛教梁植偉中學

設計與科技

小測編號： 2098 P.1

小測課題： 螺絲的接合

班別： ()

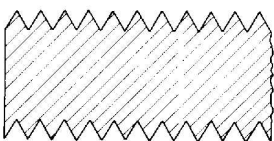
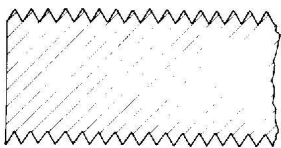
測驗日期：

姓名：

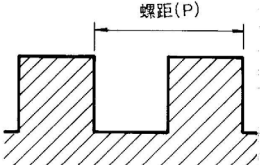
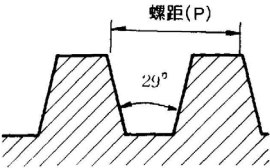
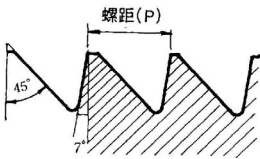
積分： / 16

每個答案 1 分。

- 螺絲是一種具有 的設計，可用作收緊兩件物件的距離；也可以用來升高重物。選擇時要考慮 及 。
- 螺紋可分為以下兩種，試寫出正確名稱：

名稱		
圖示		
外形	齒大但較疏	齒細但較密

- 齒的形狀也有很多，試按照圖示，寫出正確名稱：

圖示			
名稱			

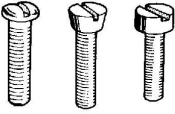
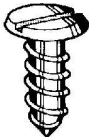



小測編號： 2098 P.2

小測課題： 螺絲的接合

班別： ()

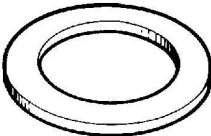

姓名：

4. 常用的螺絲有很多種，試按照圖示，寫出正確名稱：

	1	2	3	4	5
圖示					
名稱				方頭螺栓	翼形(蝶頭)螺帽及螺絲

5. 墊圈俗稱 ，是一圓形而中心開孔的薄片。用途是增加螺絲與工件的 ，可以平均螺絲頭的 及防止螺帽因震動而鬆脫。

6. 請寫出以下墊圈的名稱：

圖示		
名稱	<u> </u>	<u> </u>

---全卷完---